
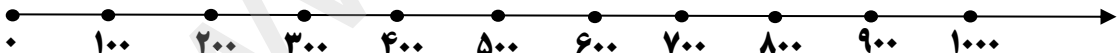


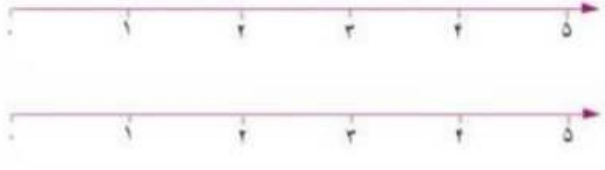

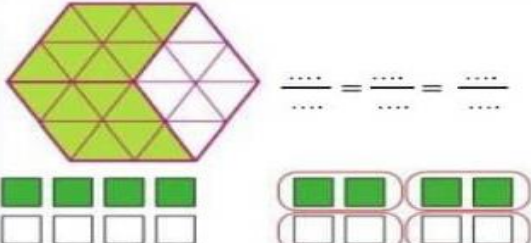

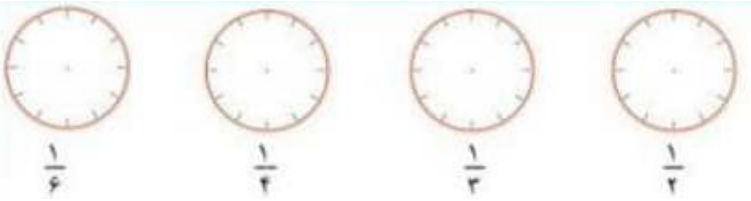

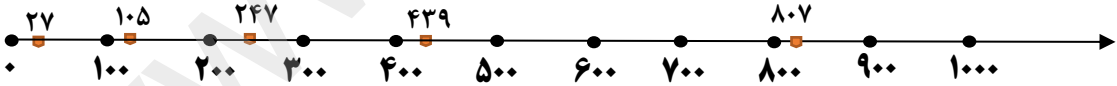


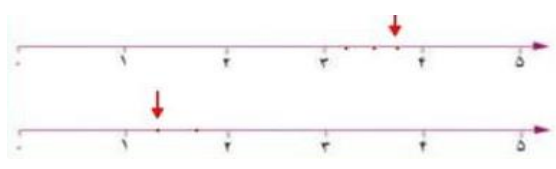

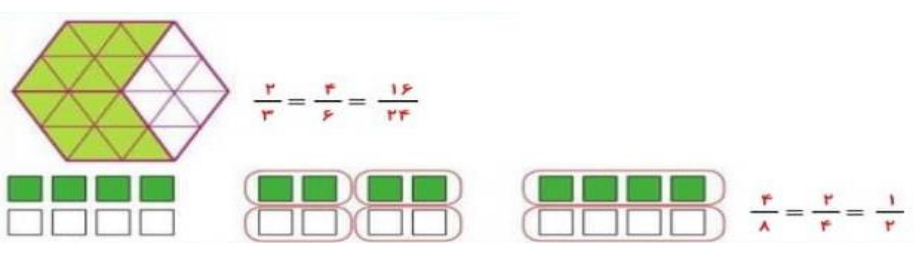
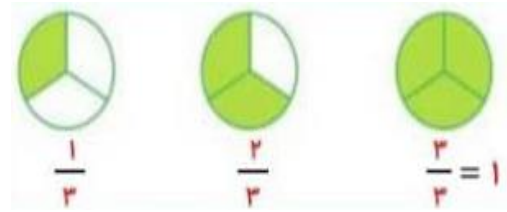

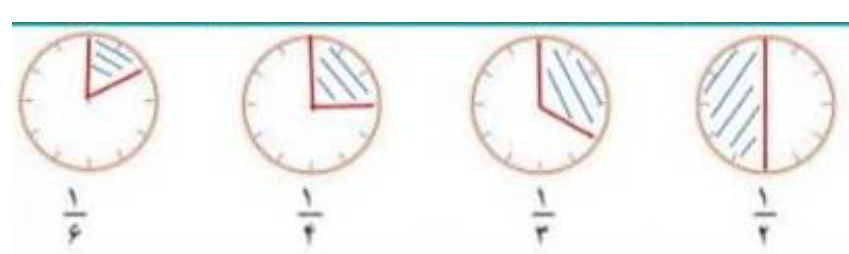


سال تحصیلی ۱۴۰۲-۱۴۰۳ نوبت اول	«بسمه تعالی» مدرسه پسرانه سرای دانش	نام و نام خانوادگی: نام آموزگار: الهام شهروزی درس: ریاضی پایه: سوم دبستان	
بازخورد	«سوالات»		ردیف
خ خ ق ن	باز شده ی عددهای زیر را بنویسید. (از مجموعه دروس) $7461 =$ $9083 =$ $5240 =$		۱
خ خ ق ن	دور کسرهای برابر ، خط بکشید. (مجموعه دروس) $\frac{3}{7}$ و $\frac{8}{8}$ و $\frac{5}{8}$ و $\frac{6}{9}$ و $\frac{9}{9}$ و $\frac{7}{10}$ و $\frac{10}{10}$		۲
خ خ ق ن	برای شکل زیر ۲ کسر مساوی بنویسید. (مجموعه دروس) 		۳
خ خ ق ن	حاصل جمع و تفریق های زیر را بنویسید. $30 + 20 =$ $600 + 400 =$ $500 + 500 =$ $800 - 300 =$ $1000 - 500 =$		۴
خ خ ق ن	با توجه به محور ، عدد داده شده را به صورت تقریبی نشان دهید.  27 و 439 و 105 و 247 و 807		۵
خ خ ق ن	مانند نمونه با حروف رقم یکان - دهگان عددهای زیر و قرار دادن صفر ، دوباره آن ها را بنویس. $1437 \rightarrow$ $2560 \rightarrow$		۶
خ خ ق ن	عدد داخل دایره به کدام عدد در مربع نزدیک تر است؟  		۷

<p>سال تحصیلی ۱۴۰۲-۱۴۰۳ نوبت اول</p>	<p>«بسمه تعالی» مدرسه پسرانه سرای دانش</p>	<p>نام و نام خانوادگی: نام آموزگار: الهام شهروزی درس: ریاضی پایه: سوم دبستان</p>	
بازخورد	«سوال»		ردیف
<p>خ خ ق ق ن ت</p>	<p>عددهای داده شده را روی محور نشان دهید.</p>  <p>$\frac{3}{4}$ واحد بعد از عدد ۳ ✨</p> <p>$\frac{2}{3}$ واحد مانده به عدد ۲ ✨</p>		۸
<p>خ خ ق ق ن ت</p>	<p>مشخص کنید هر کدام از عددهای زیر بین کدام دو عدد قرار دارند</p> 		۹
<p>خ خ ق ق ن ت</p>	<p>برای هر ردیف از شکل ها یک تساوی کسر بنویسید.</p>  <p>..... = =</p> <p>..... = =</p>		۱۰
<p>خ خ ق ق ن ت</p>	<p>کسر مربوط به هر شکل را نوشته و به سوال پاسخ دهید.</p>  <p>..... =</p> <p>به جای کسر $\frac{3}{3}$ چه عددی می توانیم بنویسیم؟</p> <p>چرا؟</p>		۱۱
<p>خ خ ق ق ن ت</p>	<p>مقایسه کنید.</p> <p>$\frac{3}{8}$ <input type="checkbox"/> $\frac{3}{22}$ $\frac{65}{25}$ <input type="checkbox"/> $\frac{14}{25}$ $\frac{1}{4}$ <input type="checkbox"/> $\frac{1}{7}$ < = ></p>		۱۲
<p>خ خ ق ق ن ت</p>	<p>کسر های داده شده را روی ساعت نشان دهید.</p> 		۱۳
موفق باشید			

سال تحصیلی ۱۴۰۲-۱۴۰۳ نوبت اول	نام و نام خانوادگی: نام آموزگار: الهام شهری درس: ریاضی پایه: سوم دبستان	«بسمه تعالی» مدرسه پسرانه سرای دانش
بازخورد	«پاسخنامه»	
خ خ ق ق ن	باز شده ی عددهای زیر را بنویسید. (از مجموعه دروس) $7461 = 7000 + 400 + 60 + 1$ $9083 = 9000 + 80 + 3$ $5240 = 5000 + 200 + 40$	۱
خ خ ق ق ن	دور کسرهای برابر ، خط بکشید. (مجموعه دروس) $\frac{8}{8} = \frac{9}{9} = \frac{10}{10} = 1$	۲
خ خ ق ق ن	برای شکل زیر ۲ کسر مساوی بنویسید. (مجموعه دروس) $\frac{2}{3} = \frac{4}{6}$ 	۳
خ خ ق ق ن	حاصل جمع و تفریق های زیر را بنویسید. $30 + 20 = 50$ $600 + 400 = 1000$ $500 + 500 = 1000$ $800 - 300 = 500$ $1000 - 500 = 500$	۴
خ خ ق ق ن	با توجه به محور ، عدد داده شده را به صورت تقریبی نشان دهید.  ۲۷ و ۴۳۹ و ۱۰۵ و ۲۴۷ و ۸۰۷	۵
خ خ ق ق ن	مانند نمونه با حروف رقم یکان - دهگان عددهای زیر و قرار دادن صفر ، دوباره آن ها را بنویس. $1437 \rightarrow$ $2560 \rightarrow$	۶
خ خ ق ق ن	عدد داخل دایره به کدام عدد در مربع نزدیک تر است؟  	۷

<p>سال تحصیلی ۱۴۰۲-۱۴۰۳ نوبت اول</p>	<p>«بسمه تعالی» مدرسه پسرانه سرای دانش</p>	<p>نام و نام خانوادگی: نام آموزگار: الهام شهری درس: ریاضی پایه: سوم دبستان</p>	
بازخورد	«پاسخنامه»		
<p>خ خ ق ق ن ت</p>	<p>عدد های داده شده را روی محور نشان دهید.</p>  <p>$\frac{3}{4}$ واحد بعد از عدد ۳ ✂</p> <p>$\frac{2}{3}$ واحد مانده به عدد ۲ ✂</p>		۸
<p>خ خ ق ق ن ت</p>	<p>مشخص کنید هر کدام از عددهای زیر بین کدام دو عدد قرار دارند</p> 		۹
<p>خ خ ق ق ن ت</p>	<p>برای هر ردیف از شکل ها یک تساوی کسر بنویسید.</p> 		۱۰
<p>خ خ ق ق ن ت</p>	<p>کسر مربوط به هر شکل را نوشته و به سوال پاسخ دهید.</p>  <p>به جای کسر $\frac{3}{3}$ چه عددی می توانیم بنویسیم؟ چرا؟ چون برابر با یک شکل کامل است.</p>		۱۱
<p>خ خ ق ق ن ت</p>	<p>مقایسه کنید.</p> 		۱۲
<p>خ خ ق ق ن ت</p>	<p>کسر های داده شده را روی ساعت نشان دهید.</p> 		۱۳
موفق باشید			