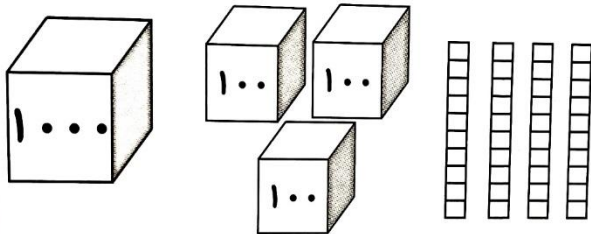


سؤالات

نمره

با توجه به شکل مقابل عدد را در جدول ارزش مکانی دهید و آن را به حروف بنویسید.



۱

مغازه داری یک شیشه شیر را ۲۰۰ تومان میخرد و ۲۳۰ تومان میفروشد.

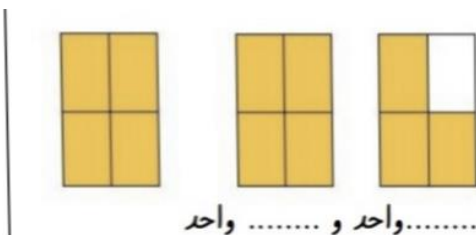
الف) سود هر شیشه شیر را حساب کنید.

ب) ۵ شیشه شیر چقدر سود دارد؟

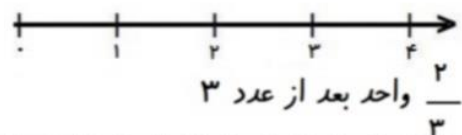
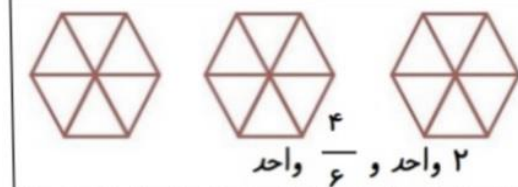
۲

شیشه شیر					
سود					

جاهای خالی را با عدد مناسب و شکل ها را با رنگ کامل کنید



۳



اعداد زیر را به صورت گسترده بنویسید.

۲۱۴۹ =

۹۰۸۳ =

۴

جای خالی را کامل کنید.

۵

* ۳۵۶ سانتی متر یعنی متر و سانتی متر.

* ۷ کیلومتر یعنی متر.

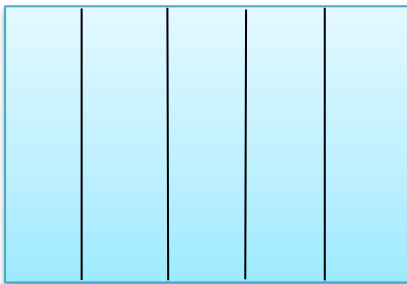
* یک ربع ساعت ساعت است .

* ۹ متر و ۱۵ سانتی متر یعنی سانتی متر.

* ۶۹۰۰ گرم برابر است با کیلوگرم و گرم.

با کامل کردن شکل نشان دهید که $\frac{2}{5} = \frac{4}{10}$ است.

۶



مقایسه کنید $< = >$

۷

1 $\frac{7}{7}$

۴ واحد و $\frac{1}{2}$ واحد ۵ واحد و $\frac{1}{5}$ واحد

خمس ثلث

$\frac{2}{5}$ $\frac{2}{7}$

$\frac{3}{10}$ $\frac{6}{10}$

زاویه و خط تقارن شکل زیر را مشخص کنید. و بنویسید زاویه مربع چه نوع زاویه ای است؟

۹



۳ دلار کشوری معادل ۳۰۰ تومان است، ۵ دلار چند تومان ارزش دارد؟

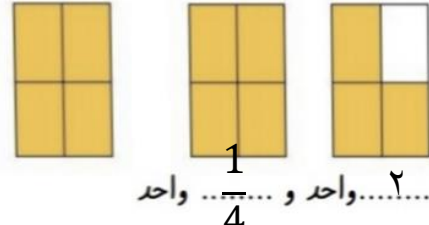
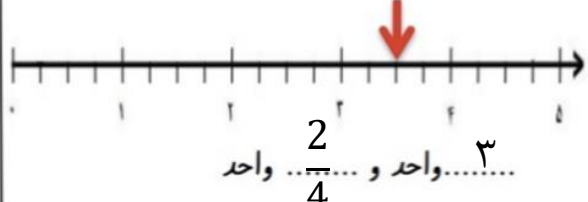

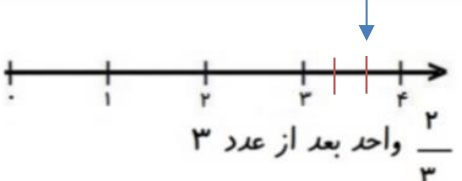
۱۰

دلار					
تومان					



اداره ی کل آموزش و پرورش شهر تهران
 اداره ی آموزش و پرورش شهر تهران منطقه ۷ تهران
 دبستان غیر دولتی پسرانه سرای دانش واحد شریعتی
کلید سؤالات ترم نوبت اول سال تحصیلی ۱۴۰۲-۱۴۰۱

نام درس: ریاضی
 نام دبیر:
 تاریخ امتحان: ۱۷ / ۱۰ / ۱۴۰۱
 ساعت امتحان:
 صبح / عصر
 مدت امتحان: دقیقه

ردیف	راهنمای تصحیح	محل مهر یا امضاء مدیر												
۱	<p>هزار و سیصد و چهل</p> <table border="1"> <tr> <td>یکان</td> <td>دهگان</td> <td>صدگان</td> <td>هزارگان</td> </tr> <tr> <td>۰</td> <td>۴</td> <td>۳</td> <td>۱</td> </tr> </table>	یکان	دهگان	صدگان	هزارگان	۰	۴	۳	۱					
یکان	دهگان	صدگان	هزارگان											
۰	۴	۳	۱											
۲	<p>سود هر بسته ۳۰ تومن است</p> <table border="1"> <tr> <td>شیشه شیر</td> <td>۱</td> <td>۲</td> <td>۳</td> <td>۴</td> <td>۵</td> </tr> <tr> <td>سود</td> <td>۳۰</td> <td>۶۰</td> <td>۹۰</td> <td>۱۲۰</td> <td>۱۵۰</td> </tr> </table>	شیشه شیر	۱	۲	۳	۴	۵	سود	۳۰	۶۰	۹۰	۱۲۰	۱۵۰	
شیشه شیر	۱	۲	۳	۴	۵									
سود	۳۰	۶۰	۹۰	۱۲۰	۱۵۰									
۳	  <hr/>  													
۴	$2149 = 2000 + 100 + 40 + 9$ $9083 = 9000 + 80 + 3$													
۵	<p>❖ ۳ متر و ۵۶ سانتی متر ❖ ۷۰۰۰ متر ❖ $\frac{1}{4}$ ساعت</p>													

❖ ۹۱۵ سانتی متر
❖ ۶ کیلوگرم و ۹۰۰ گرم

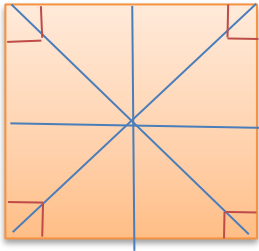


۶

$$\frac{2}{5} > \frac{2}{7} \quad \frac{3}{10} < \frac{6}{10} \quad 1 = \frac{7}{7}$$

7

۴ واحد و $\frac{1}{2}$ واحد > ۵ واحد و $\frac{1}{5}$ واحد > ثلث < خمس



مربع ۴ زاویه راست دارد و ۴ خط تقارن

8

دلار	1	2	3	4	5
تومان	100	200	300	400	500

9

با توجه به اینکه ۳ دلار کشوری ۳۰۰ تومان ارزش دارد پس ۱ دلار آن ۱۰۰ تومان است، در نتیجه ۵ دلار آن ۵۰۰ تومان ارزش دارد

امضاء:

نام و نام خانوادگی مصحح :