

تاریخ آزمون: ۱۴۰۲/۱۰/۲۵ مدت آزمون: ۴۵ دقیقه	به نام خدا اداره آموزش و پرورش دبستان غیر دولتی فدک نور سوالات آزمون ریاضی پایه دوم	نام: نام خانوادگی: نام طراح سوال: زعدی
--	---	--

صفحه ۱

۱- عددهای دو رقمی بنویسید که یکان آن ها ۳ و ۵ باشد و دهگان آن ها ۶ و ۹ باشد.

۲- با کمک محور رو به عقب بشمارید و الگو را کامل کنید.

۱۲ و ۹ و و و

۳- حاصل جمع و تفریق ها را به دست آورید.

$$۵+۵+۲۰+۵+۳۰=$$

$$۲+۵+۲۰+۱۰+۵=$$

(به روش فرایندی)

$$\begin{array}{r} ۷۶ \\ - ۲۲ \\ \hline \end{array}$$

$$\begin{array}{r} ۴۵ \\ + ۳۴ \\ \hline \end{array}$$

۴- جواب جمع و تفریق زیر را به صورت تقریبی بنویسید.

$$\begin{array}{r} ۸۵ \rightarrow \\ - ۳۶ \rightarrow \end{array} \quad _$$

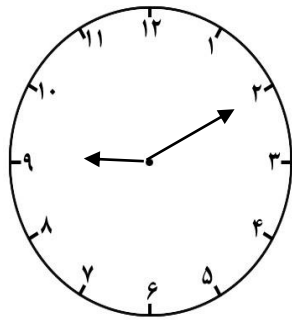
$$\begin{array}{r} ۵۴ \rightarrow \\ + ۲۷ \rightarrow \end{array} \quad + _$$

۵- با کمک شابلون دو شکل مربع و مستطیل رسم کنید و بیان کنید چه تفاوت ها و چه شباهت هایی دارند.

شباهت:

تفاوت:

۶- به سوال زیر پاسخ دهید.



ساعت ۹ و ۱۰ دقیقه است.

۴۵ دقیقه بعد ساعت چه زمانی را نشان می دهد.

۷- عدد زیر را در جدول بنویس و شکل بکش.

۲۴۵

یکان	دهگان	صدگان

۸- الگوی عددی را ادامه دهید.

۱ - ۳ - ۶ - - - -

۹- با سه کاردی که بر روی آن ها عددهای ۳-۶-۴ نوشته شده است تمام عددهای سه رقمی را که می توانی بنویس.

الف- کوچکترین عدد سه رقمی باشد.

ب- رقم صدگان کمتر از رقم یکان باشد.

۱۰- با رقم و حروف بنویسید.

هفتصد و هفتاد و سه	نهصد و چهل
۵۶۷	۳۸۸

۱۱- برای عددهای زیر سکه بکشید.

۴۳۷

۲۳۴

۱۲- عددهای زیر را تقریب بزنید.

۸۲ →

۵۵ →

عددهای زیر را با حذف رقم یکان تقریب بزنید.

۹۴۸ →

۷۳۴ →

۱۳- رضا ۹۷ امتیاز داشت. ابتدا به یک سوال ۹ امتیازی پاسخ داد. سپس با یک سوال ۷ امتیاز را از دست داد. حالا او چند امتیاز دارد.

معیارها	خیلی خوب	خوب	قابل قبول	تلاش بیشتر
۱- مفهوم عدد و رقم را درک کرده است.				
۲- با کمک محور می تواند الگو را کامل کند.				
۳- جمع و تفریق فرایندی را حل می کند.				
۴- جمع و تفریق تقریبی را می تواند بنویسد.				
۵- شکل های خواسته شده را می تواند بکشد و تفاوت و شباهت ها را می تواند بنویسد.				
۶- زمان خواسته شده را درست می نویسد.				
۷- عدد را در جدول ارزش مکانی صحیح می نویسد و شکل می تواند بکشد.				
۸- الگوی عددی را صحیح می نویسد.				
۹- با کارت عدد سه رقمی درست می کند.				
۱۰- اعداد را به حروف و رقم می تواند بنویسد.				
۱۱- برای عددها سکه می تواند بکشد.				
۱۲- تقریب اعداد سه رقمی را به درستی می نویسد.				
۱۳- مسئله را به درستی پاسخ می دهد.				

باتشکر رعدی

www-karim

نام: نام خانوادگی: نام طراح سوال: زعدی	به نام خدا اداره آموزش و پرورش دبستان غیر دولتی فدک نور سوالات آزمون ریاضی پایه دوم	تاریخ آزمون: ۱۴۰۲/۱۰/۲۵ مدت آزمون: ۴۵ دقیقه
--	---	--

صفحه ۱

۱- عددهای دو رقمی بنویسید که یکان آن ها ۳ و ۵ باشد و دهگان آن ها ۶ و ۹ باشد.

۶۳_۶۵_۹۳_۹۶

۲- با کمک محور رو به عقب بشمارید و الگو را کامل کنید.

۱۲ و ۹ و ۶ و ۳ و ۰

۳- حاصل جمع و تفریق ها را به دست آورید.

$$۵+۵+۲۰+۵+۳۰= ۶۵$$

$$۲+۵+۲۰+۱۰+۵= ۴۲$$

(به روش فرایندی)

$$\begin{array}{r} ۷۶ \\ - ۲۲ \\ \hline ۵۴ \end{array}$$

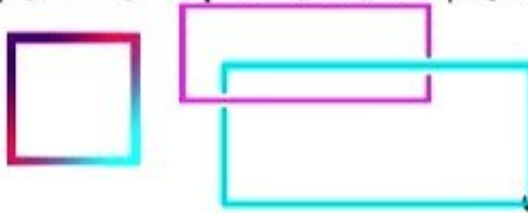
$$\begin{array}{r} ۴۵ \\ + ۳۴ \\ \hline ۷۹ \end{array}$$

۴- جواب جمع و تفریق زیر را به صورت تقریبی بنویسید.

$$\begin{array}{l} ۸۵ \rightarrow ۹۰ \\ - ۳۶ \rightarrow - ۴۰ \\ \hline ۵۰ \end{array}$$


$$\begin{array}{l} ۵۴ \rightarrow ۵۰ \\ + ۲۷ \rightarrow + ۳۰ \\ \hline ۸۰ \end{array}$$

۵- با کمک شابلون دو شکل مربع و مستطیل رسم کنید و بیان کنید چه تفاوت ها و چه شباهت هایی دارند.



شباهت: هر دو ۴ ضلع دارند

تفاوت: ضلع های مربع برابرند ولی ضلع های مستطیل برابر نیست.
۶- به سوال زیر پاسخ دهید.



ساعت ۹ و ۱۰ دقیقه است.

۴۵ دقیقه بعد ساعت چه زمانی را نشان می دهد. **۹:۵۵**

۷- عدد زیر را در جدول بنویس و شکل بکش.

۲۴۵

صدگان	دهگان	یکان
۲	۴	۵

۸- الگوی عددی را ادامه دهید.

۱-۳-۶ - ۱۰ - ۱۵ - ۲۱ - ۲۸

۹- با سه کارتی که بر روی آن ها عددهای ۳-۶-۴ نوشته شده است تمام عددهای دو رقمی را که می توانی بنویس.

۳۳۶ ۳۶۳ ۳۳۶ ۳۶۳ ۶۳۳ ۶۳۳

الف- کوچکترین عدد باشد. **۳۳۶**

ب- رقم صدگان کمتر از رقم یکان باشد. **۳۳۶**

۱۰. ابا رقم و حروف بنویسید.

هفتصد و هفتاد و سه **۷۷۳**

نهمصد و چهل **۹۴۰**

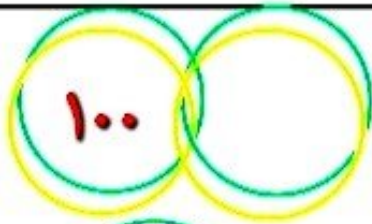
۵۶۷

پانصد و شصت و هفت

سیصد و هشتاد و هشت **۳۸۸**

۱۱. برای عددهای زیر سکه بکشید.

۴۳۷



۲۳۴



۱۲. عددهای زیر را تقریب بزنید.

۸۲ → **۸۰**

۵۵ → **۶۰**

عددهای زیر را با حذف رقم یکان تقریب بزنید.

۹۴۸ → **۹۴۰**

۷۳۴ → **۷۳۰**

۱۳. رضا ۹۷ امتیاز داشت. ابتدا به یک سوال ۹ امتیازی پاسخ داد. سپس با یک سوال ۷ امتیاز را از دست داد. حالا او چند امتیاز دارد.

$$97 + 9 = 106$$

$$106 - 7 = 99$$

معیارها	خیلی خوب	خوب	قابل قبول	تلاش بیشتر
۱- مفهوم عدد و رقم را درک کرده است.				
۲- با کمک محور می تواند الگو را کامل کند.				
۳- جمع و تفریق فرایندی را حل می کند.				
۴- جمع و تفریق تقریبی را می تواند بنویسد.				
۵- شکل های خواسته شده را می تواند بکشد و تفاوت و شباهت ها را می تواند بنویسد.				
۶- زمان خواسته شده را درست می نویسد.				
۷- عدد را در جدول ارزش مکانی صحیح می نویسد و شکل می تواند بکشد.				
۸- الگوی عددی را صحیح می نویسد.				
۹- با کارت عدد سه رقمی درست می کند.				
۱۰- اعداد را به حروف و رقم می تواند بنویسد.				
۱۱- برای عددها سکه می تواند بکشد.				
۱۲- تقریب اعداد سه رقمی را به درستی می نویسد.				
۱۳- مسئله را به درستی پاسخ می دهد.				

باتشکر رعدی