
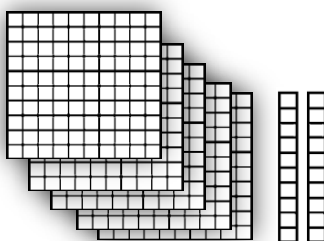


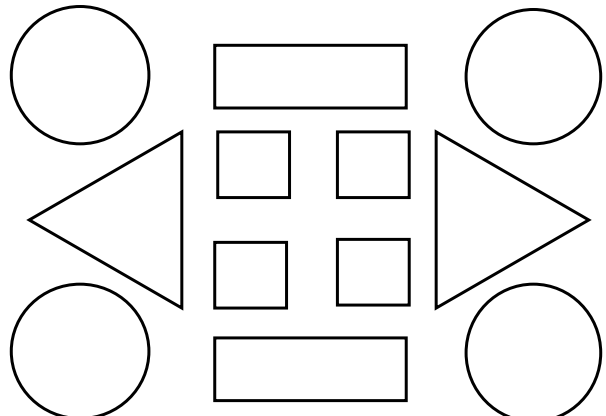
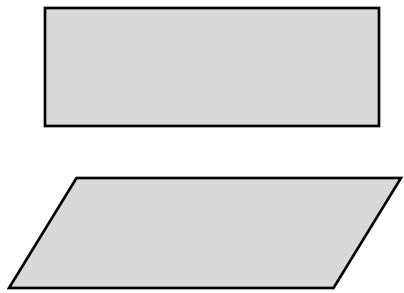


ریاضی

	<p>۱ عددهای دو رقمی بنویسید که یکان آن ها ۴۰۲ و دهگان آن ها ۸۰۵ باشد.</p> <p style="text-align: center;"> <input type="text"/> <input type="text"/> <input type="text"/> <input type="text"/> </p>	۱																		
	<p>۲ جاهای خالی را با توجه به الگوی آن ها پر کنید.</p> <p>۱۷ - ۱۸ - ۱۹ - <input type="text"/> - <input type="text"/> - <input type="text"/> - <input type="text"/> - <input type="text"/></p> <p><input type="text"/> - <input type="text"/> - <input type="text"/> - <input type="text"/> سی و شش - سی و هفت - سی و هشت - سی و نُه</p> <p>۵۵ - ۵۸ - ۶۰ - <input type="text"/> - <input type="text"/> - <input type="text"/> - <input type="text"/></p>	۲																		
	<p>۳ الگوی زیر با کشیدن عقربه نشان بدهید.</p> 	۳																		
	<p>۴ جمع و تفریق های زیر با استفاده از روش گسترده نویسی حساب کنید.</p> <table style="width: 100%; text-align: center;"> <tr> <td>$\begin{array}{r} 46 \\ - 16 \\ \hline \end{array}$</td> <td>$\begin{array}{r} 24 \\ + 24 \\ \hline \end{array}$</td> <td>$\begin{array}{r} 67 \\ - 30 \\ \hline \end{array}$</td> <td>$\begin{array}{r} 20 \\ + 29 \\ \hline \end{array}$</td> </tr> </table>	$\begin{array}{r} 46 \\ - 16 \\ \hline \end{array}$	$\begin{array}{r} 24 \\ + 24 \\ \hline \end{array}$	$\begin{array}{r} 67 \\ - 30 \\ \hline \end{array}$	$\begin{array}{r} 20 \\ + 29 \\ \hline \end{array}$	۴														
$\begin{array}{r} 46 \\ - 16 \\ \hline \end{array}$	$\begin{array}{r} 24 \\ + 24 \\ \hline \end{array}$	$\begin{array}{r} 67 \\ - 30 \\ \hline \end{array}$	$\begin{array}{r} 20 \\ + 29 \\ \hline \end{array}$																	
	<p>۵ عدد مربوط به هر شکل را به عدد و حروف بنویسید</p> <div style="display: flex; justify-content: space-between;"> <div style="width: 30%;">  </div> <div style="width: 30%;"> <table border="1" style="width: 100%; text-align: center;"> <thead> <tr> <th>صدگان</th> <th>دهگان</th> <th>یکان</th> </tr> </thead> <tbody> <tr> <td style="height: 40px;"> </td> <td style="height: 40px;"> </td> <td style="height: 40px;"> </td> </tr> </tbody> </table> </div> <div style="width: 30%; text-align: right;"> <input style="width: 100%; height: 30px;" type="text"/> </div> </div> <div style="display: flex; justify-content: space-between; margin-top: 20px;"> <div style="width: 30%;">  </div> <div style="width: 30%;"> <table border="1" style="width: 100%; text-align: center;"> <thead> <tr> <th>صدگان</th> <th>دهگان</th> <th>یکان</th> </tr> </thead> <tbody> <tr> <td style="height: 40px;"> </td> <td style="height: 40px;"> </td> <td style="height: 40px;"> </td> </tr> </tbody> </table> </div> <div style="width: 30%; text-align: right;"> <input style="width: 100%; height: 30px;" type="text"/> </div> </div> <div style="display: flex; justify-content: space-between; margin-top: 20px;"> <div style="width: 30%;">  </div> <div style="width: 30%;"> <table border="1" style="width: 100%; text-align: center;"> <thead> <tr> <th>صدگان</th> <th>دهگان</th> <th>یکان</th> </tr> </thead> <tbody> <tr> <td style="height: 40px;"> </td> <td style="height: 40px;"> </td> <td style="height: 40px;"> </td> </tr> </tbody> </table> </div> <div style="width: 30%; text-align: right;"> <input style="width: 100%; height: 30px;" type="text"/> </div> </div>	صدگان	دهگان	یکان				صدگان	دهگان	یکان				صدگان	دهگان	یکان				۵
صدگان	دهگان	یکان																		
صدگان	دهگان	یکان																		
صدگان	دهگان	یکان																		

	<p>۶ به عدد یا حروف بنویسید</p> <p>دویست و دوازده ۵۴۶</p> <p>۱۰۵ چهارصد بیست و دو</p>
	<p>۷ هر کدام از اعداد داده شده به کدامیک نزدیک تر است؟ داخل آن را رنگ بزنید</p> <p>۲۰ ← ۲۴ → ۳۰</p> <p>۲۵۰ ← ۲۵۷ → ۲۶۰</p> <p>۱۰۰ ← ۱۲۸ → ۲۰۰</p>
	<p>۸ شکل های زیر را طبق راهنما رنگ بزنید.</p> <p>مربع → قرمز</p> <p>مستطیل → آبی</p> <p>مثلث → زرد</p> <p>دایره → سبز</p> 
	<p>۹ تفاوت و شباهت های شکل های زیر را بنویسید.</p> <p>تفاوت:</p> <p>شباهت:</p> 

ارزشیابی آموزگار

- خیلی خوب
- خوب
- قابل قبول
- نیاز به تلاش بیشتر

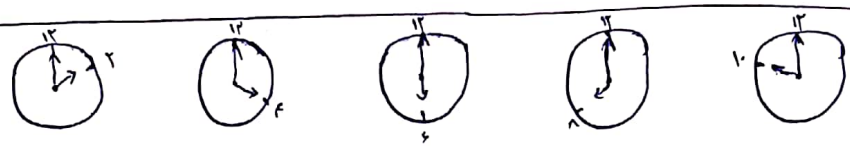
۸۴-۸۲-۵۴-۵۲

۱-

۱۷-۱۸-۱۹-۲۰-۲۱-۲۲-۲۳-۲۴

۲-

سی و شش - سی و هفت - سی و هشت - سی و نه - چهل - چهل و یک - چهل و دو



۳-

$\begin{array}{r} ۴۹ \\ ۵۶ \\ \hline -۳۶ \\ ۶ \\ \hline ۲۰ \end{array}$	$\begin{array}{r} ۲۴ \\ ۱۷۴ \\ \hline +۴۴ \\ ۴ \\ \hline ۴۸ \end{array}$	$\begin{array}{r} ۴۷ \\ ۳۰ \\ \hline -۲۷ \\ ۰ \\ \hline ۲۰ \end{array}$	$\begin{array}{r} ۲۰ \\ ۱۶۹ \\ \hline +۴۰ \\ ۹ \\ \hline ۴۹ \end{array}$
---	--	---	--


۴-

۶- پانصد و چهل و شش ۵۴۶
 دویست و دوازده ۲۱۲
 چهارصد و بیست و اردو ۴۲۲
 صد و پنجاه ۱۰۵

۵	پانصد و بیست و هفت	<table border="1"> <tr><td>یکان</td><td>دهگان</td><td>صدهگان</td></tr> <tr><td>۷</td><td>۲</td><td>۵</td></tr> </table>	یکان	دهگان	صدهگان	۷	۲	۵
یکان	دهگان	صدهگان						
۷	۲	۵						
۵	سیصد و هفتاد و پنج	<table border="1"> <tr><td>یکان</td><td>دهگان</td><td>صدهگان</td></tr> <tr><td>۵</td><td>۷</td><td>۳</td></tr> </table>	یکان	دهگان	صدهگان	۵	۷	۳
یکان	دهگان	صدهگان						
۵	۷	۳						
۳	چهارصد و سه	<table border="1"> <tr><td>یکان</td><td>دهگان</td><td>صدهگان</td></tr> <tr><td>۳</td><td>۰</td><td>۴</td></tr> </table>	یکان	دهگان	صدهگان	۳	۰	۴
یکان	دهگان	صدهگان						
۳	۰	۴						

۷- ۲۴ به ۲ نزدیک تر است ۲۵۷ به ۲۶۰ نزدیک تر است ۱۲۸ به ۱۰۰ نزدیک تر است

۸-



۹- تفاوت: یکی مستطیل دیگری متوازی الاضلاع است بابت: همدرد چهارضلعی و از اشکال هندسی هستند