


۶ بزرگترین عدد شش رقمی غیر تکراری را بنویسید که فرد باشد و یکان هزار آن صفر باشد.

۶



۷ $\frac{4}{6}$ شکل رو به رو را رنگ کنید.

۷

چه کسری از شکل رنگ نشده است؟

۸ در یک باغچه گل کاری شده $\frac{45}{100}$ را گل میخک و $\frac{2}{10}$ آن را گل بنفشه کاشته اند.
الف) چه کسری از باغچه گل کاشته شده است؟

۸

ب) چه کسری از باغچه مانده تا در آن سبزی بکارد؟

۹ کمیته امداد ۸۰۵ کیسه ۲۴ کیلوگرمی برنج را بین ۱۴ نفر نیازمند تقسیم کرده است. به هر خانواده چند کیلوگرم برنج رسیده است؟

۹

۱۰ یک جعبه شکلات ۵ ردیف ۶ تایی شکلات دارد. $\frac{2}{3}$ این شکلات ها چند شکلات می شود؟

۱۰

۱۱ تقسیم زیر را انجام دهید و عبارت درستی آن را بنویسید..


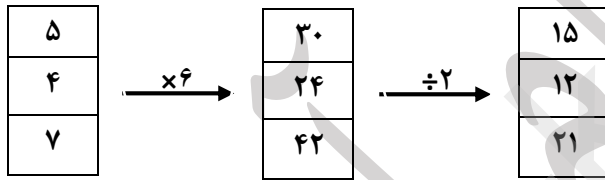
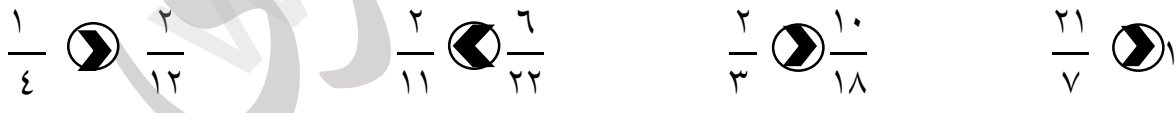

۱۱

$$\begin{array}{r} 6754 \\ | \\ 21 \end{array}$$

موفق باشید.

مدیریت نظام آموزشی
www.kennedy.com

نام و نام خانوادگی:	عنوان آزمون:	تاریخ آزمون: 1402/10/
نوبت آزمون:	پایه:	زمان آزمون: دقیقه
دبستان غیردولتی دخترانه برتران ارجان	طراح: محبوبه نام آوری	

ردیف	سوالات
۱	<p>با توجه به عدد داده شده به سوالات پاسخ دهید. ۵۷۰۸۶۴۱</p> <p>الف) عدد را به حروف بنویسید پنج میلیون و هفتصد و هشت هزار و ششصد و چهل و یک</p> <p>ب) ارزش مکانی کدام رقم بیشتر است؟ ۸ در مرتبه یکان هزار</p> <p>پ) کوچکترین رقم در چه مرتبه ای قرار دارد؟ صفر در مرتبه دهگان هزار</p> <p>ت) رقم های طبقه میلیون را بنویسید. ۵</p>
۲	<p>با توجه به الگوی داده شده آنها را ادامه دهید</p> <p>۳۰۰۰ - ۳۱۰۰ - ۲۸۰۰ - ۲۹۰۰ - ۲۶۰۰ - ۲۷۰۰ - ۲۴۰۰</p> <p>  </p>
۳	<p>در جای خالی عدد مناسب بنویسید</p> <p>  </p> <p>$200 \times \underline{\quad} = 18000$</p> <p>$5 \times \frac{1}{100} = \frac{5}{100}$ یک ساعت برابر است با ۱۵ دقیقه $\frac{1}{4}$</p>
۴	<p>در جای خالی علامت > = < بگذارید.</p> <p>  </p>
۵	<p>برای شکل زیر سه کسر مساوری بنویسید.</p> <p>  </p> <p>$\frac{2}{3} = \frac{4}{6} = \frac{8}{12}$</p>


۶ بزرگترین عدد شش رقمی غیر تکراری را بنویسید که فرد باشد و یکان هزار آن صفر باشد.

۹۸۰۷۶۵

۶

۷

$\frac{4}{6}$ شکل رو به رو را رنگ کنید.



چه کسری از شکل رنگ نشده است؟ $\frac{2}{6}$

۸ در یک باغچه گل کاری شده $\frac{45}{100}$ را گل میخک و $\frac{2}{10}$ آن را گل بنفشه کاشته اند.

الف) چه کسری از باغچه گل کاشته شده است؟

$$\frac{45}{100} + \frac{2}{10} = \frac{65}{100}$$

ب) چه کسری از باغچه مانده تا در آن سبزی بکارد؟

$$\frac{35}{100}$$

۸

۹ کمیته امداد ۸۰۵ کیسه ۲۴ کیلوگرمی برنج را بین ۱۴ نفر نیازمند تقسیم کرده است. به هر خانواده چند کیلوگرم برنج رسیده است؟

$$\begin{array}{r} 805 \\ \times 24 \\ \hline 19320 \end{array}$$

$$\begin{array}{r} 14 \\ \hline 19320 \\ 1380 \end{array}$$

۹

۱۰ یک جعبه شکلات ۵ ردیف ۶ تایی شکلات دارد. $\frac{2}{3}$ این شکلات ها چند شکلات می شود؟ $5 \times 6 = 30$

$$2 \times 30 = 60 \quad 60 \div 3 = 20$$

۱۰

۱۱ تقسیم زیر را انجام دهید و عبارت درستی آن را بنویسید..

$$\begin{array}{r} 6754 \\ \hline 21 \\ 321 \end{array}$$

۱۱

موفق باشید.

محبوبه نام آوری