
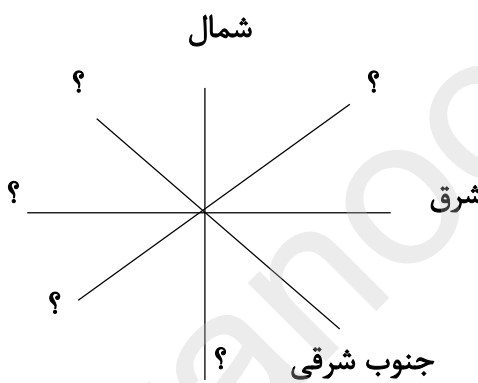





مهر دبستان	آزمون مطالعات اجتماعی تاریخ: ۱۴۰۲/۱۰/۱۷ زمان: ۶۰ دقیقه	به نام او که همه چیز را می داند اداره آموزش و پرورش شهرستان دیلم  دبستان دخترانه سرای دانش فدک	نام: نام خانوادگی: پایه: چهارم دبستان آموزگار: خانم محمدعلی پور
------------	--	--	--

بارم	سوالات	ردیف
	درستی یا نادرستی عبارت های زیر را مشخص کنید. (۱) یکی از محل های اجتماع مردم در محله ، مسجد است . (۲) یکی از وظایف شهرداری ، حفظ پاکیزگی شهر است . (۳) شغل اصلی عشایر ، کشاورزی است . (۴) اداره ی هر شهر بر عهده ی شورای اسلامی است .	۱
	در جاهای خالی کلمات مناسب بنویسید . (۱) در محله گروهی از مردم در هم زندگی می کنند . (۲) در مسجد، امام جماعت جلوتر از همه در قرار می گیرد . (۳) در جغرافیا مهم ترین وسیله ی یادگیری است . (۴) با رواج کشاورزی مردم در کنار و برای خود خانه های دائمی ساختند .	۲
	گزینه درست را انتخاب کنید . (۱) پول تو جیبی جزو کدام گروه از عناوین جدول بودجه است ؟ (۱) هزینه (۲) دستمزد (۳) درآمد (۴) پس انداز	۳
	(۲) کدام مورد جزو امکانات عمومی یک محله نیست ؟ (۱) بوستان محله (۲) ایستگاه اتوبوس (۳) خانه های مسکونی (۴) دکه ی روزنامه فروشی (۳) در کنار هر نقشه وجود دارد. (۱) نمودار (۲) راهنما (۳) عکس (۴) جدول	
	(۴) نوک رنگی قطب نما همیشه در کدام جهت قرار دارد ؟ (۱) شمال (۲) جنوب (۳) شرق (۴) غرب	
	(۵) انسان ها ابتدا از چه ابزارهایی برای کندن زمین ، پیدا کردن ریشه ی گیاهان و دوخت و دوز استفاده کردند ؟ (۱) سنگ (۲) شاخه ی درختان (۳) استخوان حیوانات (۴) همه ی موارد	
	(۶) با استفاده از نقشه ی راه چه چیزی را می توانیم بفهمیم؟ (۱) آب و هوای منطقه چگونه است . (۲) از چه راهی می توان به آن جا رفت . (۳) مردم آن محل به چه زبانی صحبت می کنند . (۴) لباس محلی آن منطقه چیست .	

	<p>۴ به سوالات زیر پاسخ کوتاه دهید . (۱) انسان های اولیه برای در امان ماندن از حمله ی حیوانات وحشی چه کار کردند؟ (۲) از محل های اجتماع مردم چهار مورد نام ببرید ؟ (۳) چرا عشایر کوچ می کنند ؟ (۴) وسایل یادگیری جغرافیا را نام ببرید ؟</p>	۴
	<p>۵ به سوالات زیر پاسخ کامل دهید . (۱) مهم ترین مشکلات انسان نخستین چه بود ؟ (۲) جغرافی دان چه کسی است ؟ (۳) کره ی زمین چیست ؟ (۴) زندگی روستایی با زندگی عشایری چه تفاوت هایی دارد ؟</p>	۵
	<p>۶ جهت های اصلی و فرعی را مشخص کنید .</p> <div style="text-align: center;">  </div> <p style="text-align: center;">  در پرتو نمایندگی خالق یکتا باشید  </p>	۶
	<p>موقفیت بر روی ستون های شکست شکل می گیرد .</p>	

مهر دبستان	پاسخنامه مطالعات اجتماعی تاریخ: ۱۴۰۲/۱۰/۱۷ زمان: ۶۰ دقیقه	به نام او که همه چیز را می داند اداره آموزش و پرورش شهرستان دیلم  دبستان دخترانه سرای دانش فدک	نام: _____ نام خانوادگی: _____ پایه: چهارم دبستان آموزگار: خانم محمدعلی پور
------------	---	--	--

امام علی (ع): آدمی با تلاش به تمامی یا بخشی از آرزوهای خود می رسد.

بارم	سوالات	ردیف
		۱
		۱) ص ۲) ص ۳) غ ۴) غ
		۲
		۱) همسایگی ۲) محراب ۳) نقشه ۴) رود ها و چشمه ها
		۳
		۱) درآمد ۲) خانه های مسکونی ۳) راهنما ۴) شمال ۵) همه ی موارد ۶) از چه راهی می توان به آن جا رفت .
		۴
		۱) به غار پناه بردند. ۲) مسجد - مدرسه - ورزشگاه _ مجتمع های فرهنگی هنری ۳) عشایر به خاطر چراندن دام ها و یا به خاطر گرمی و سردی هوا کوچ می کنند . ۴) عکس ، فیلم ، نقشه ، کره جغرافیا ، کتاب ، رایانه و ...
		۵
		۱) تهیه غذا ، تهیه مسکن ، تامین امنیت ، نبود ابزار و وسایل لازم ۲) کسی است که مکان های مختلف و زندگی مردم در آن مکان ها را مطالعه می کند . ۳) زمینی که ما روی آن زندگی می کنیم و کشورها و شهرها روی آن قرار دارند، کره ی بسیار بزرگی است که به آن کره زمین گفته می شود . ۴) روستاییان بیشتر به کشاورزی و باغداری مشغول بوده و یک جا ساکن هستند ولی عشایر بیشتر به دامپروری مشغول بوده و کوچ می کنند .

