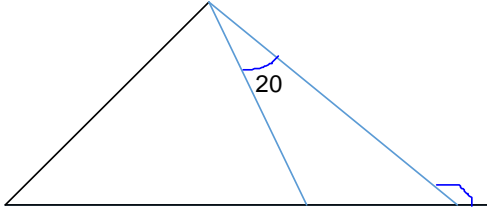


	<p>- الگوی بین عدد های بالا چه نامیده می شود؟</p>	
<p>خ <input type="checkbox"/></p> <p>خ <input type="checkbox"/></p> <p>ن <input type="checkbox"/></p>	<p>عملیات زیر را انجام دهید و جواب را به ساده ترین صورت بنویسید.</p> $3^{-5} + \frac{5}{12} - \frac{5}{6}$ $\frac{2}{7} - \frac{2}{5} + \frac{2}{4}$	5

عملکرد	شرح سوالات	ردیف
--------	------------	------

<p>خ <input type="checkbox"/></p> <p>خ <input type="checkbox"/></p> <p>ن <input type="checkbox"/></p>	<p>از یک طناب به طول 12 متر دو بار $\frac{1}{3}$ قطعات 3 بریدیم، چند متر از طناب باقی مانده است؟</p>	6
<p>خ <input type="checkbox"/></p> <p>خ <input type="checkbox"/></p> <p>ن <input type="checkbox"/></p>	<p>12^{-5} پول محمد 750 تومان است. او 32٪ از کل پولش را خرج کرد. چند تومان برایش باقی مانده است؟</p>	7

خ <input type="checkbox"/> خ <input type="checkbox"/> ق <input type="checkbox"/> ن <input type="checkbox"/>	8 نسبت طول به عرض $\frac{8}{4}$ مستطیلی است. اگر محیط آن 48 سانتی متر باشد، مساحت آن را بدست آورید.
خ <input type="checkbox"/> خ <input type="checkbox"/> ق <input type="checkbox"/> ن <input type="checkbox"/>	9 قطاری ساعت 30 25 8 از مبدا حرکت کرد و ساعت 10 13 4 بعداظهر به مقصد رسید، این قطار چه مدت در راه بوده است؟
خ <input type="checkbox"/> خ <input type="checkbox"/> ق <input type="checkbox"/> ن <input type="checkbox"/>	10 فروشنده ای کالای خود را با 20٪ تخفیف می فروشد. برای خرید کالایی ک قیمت آن 7500 تومان است، چند تومان باید بپردازیم؟
خ <input type="checkbox"/> خ <input type="checkbox"/> ق <input type="checkbox"/> ن <input type="checkbox"/>	11 در شکل رو به رو مثلث (الف، ب، ج) متساوی الضلاع است. اندازه ی زاویه ی مشخص شده را بدست آورید. 
خ <input type="checkbox"/> خ <input type="checkbox"/> ق <input type="checkbox"/> ن <input type="checkbox"/>	12 پس از یک زلزله پزشک یک مرکز درمانی اعلام کرد. 50٪ بیماران سرپایی مداوا شده اند. 50٪ بقیه به بیمارستان معرفی شده اند و بقیه بیماران در اورژانس بستری شده اند. اگر 200 نفر به این مرکز مراجعه کرده باشند چند نفر بستری شده اند؟

عملکرد	شرح سوالات	ردیف
--------	------------	------

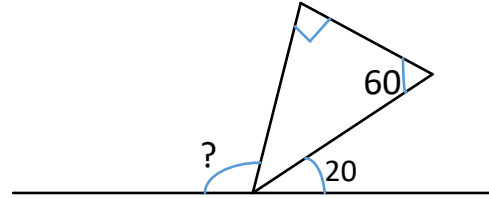
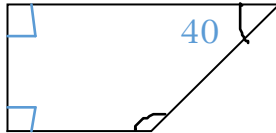
ن <input type="checkbox"/>	
----------------------------	--

13

در شکل های زیر اندازه ی زاویه های خواسته شده را بدست آورید؟

خ

 خ □
 □



www-kanoon-ir

۵
۱۲

1) الف) نیم ساز 750 ... □ □

ب) ۱۷۲

ج) $7\frac{1}{6}$) 1800 125 750 125 □ □ □ 750 □ ...

د) 550 576 □ 1800 32% □ 100

□ □ 1224 576 1800

برایش باقی مانده است.

2) الف) غلط 1224 تومان

ب) درست

دج) (غلط درست 8)

هفتصد و هشتاد و نه میلیون

3) - بیست و چهار میلیارد و

و یک هزار و هفتصد و یک

- 2 ، دهگان میلیارد

- یکان میلیون

□ □ 16 8 128 = مساحت

4) 49 مربع

- شکل دوازدهم 9) 7 47 40

- الگوی مربعی

در راه بوده است.

10) 1500 □ 7500 20% □ 100

6000

□ □ 10 12 12 $3\frac{5}{6} + \frac{5}{12}$ □ 3

5) □ 441

7500 □ 1500 6000 بپردازد.

□ □ 123 412 □ 1512 3 تومان باید

8	16
4	8
24	48

